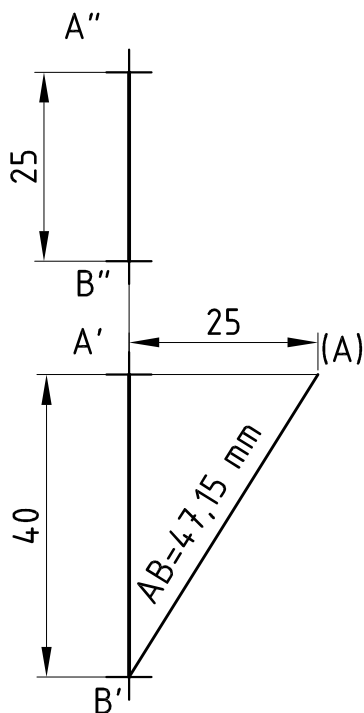
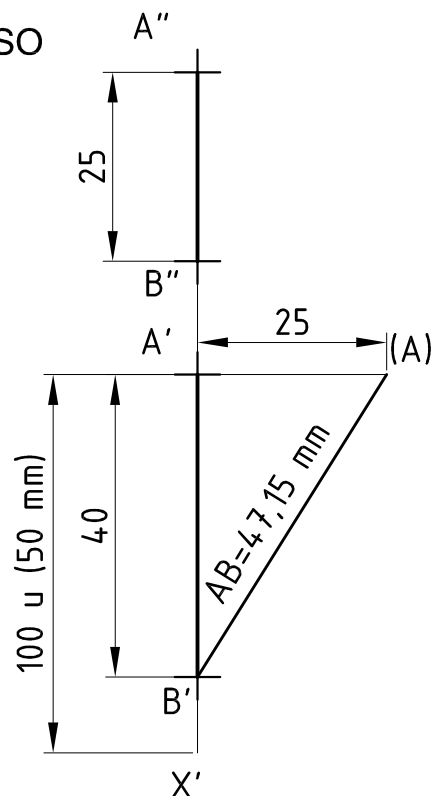


Ej. 2) ¿Cuál es el Rumbo, la Pendiente (en %) y la VM de AB? SOLUCION

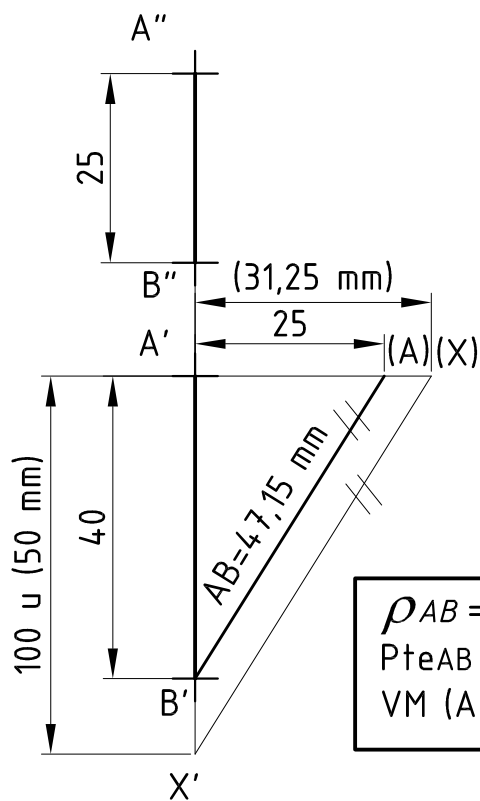
1º PASO



2º PASO



TERMINADO



$\rho_{AB} = NS$   
 $Pte_{AB} = 62,50 \% \text{ desc.}$   
 $VM (AB) = 47,15 \text{ mm}$

NOTA: como se tomó  $50 \text{ mm} = 100 \text{ u.}$ ,  
la cota que da la pendiente se debe  
multiplicar por 2:  $31,25 \text{ mm} = 62,5 \text{ u.}$